

AMOSTRA GRÁTIS

4º ANO - AVALIAÇÕES PRONTAS - BNCC 2024

DO 1º AO 4º BIMESTRE

- LÍNGUA PORTUGUESA
- MATEMÁTICA
- CIÊNCIAS
- HISTÓRIA
- GEOGRAFIA
- ARTE
- ENSINO RELIGIOSO



Clique abaixo


EU QUERO



E garanta já o seu!

ATENÇÃO

ESSE MATERIAL É PROTEGIDO COM DIREITOS AUTORAIS DE SEU CRIADOR



Toda e qualquer **divulgação, distribuição, plágio ou venda ilegal**, assim que descoberto(a) via rastreamento digital, o responsável será penalizado previsto no código civil e criminalmente por seu ato criminoso!



Você está visualizando uma **AMOSTRA GRÁTIS** de um dos materiais que pertencem à empresa ALFABETINHO, o nosso material é **vendido somente em SITES oficiais autorizados!**

É válido ressaltar, que **não vendemos os nossos produtos via pix no WhatsApp**, ou seja, pessoas se passando por nós mandando número de pix no seu particular.

Caso isso tenha acontecido com você, **denuncie!** Pois você caiu num golpe e comprou de uma pessoa que está vendendo sem autorização, além de ser **crime compactuar**, você não irá receber as nossas atualizações futuras no seu e-mail.

Os métodos de pagamento devem ser visualizados e feitos somente no nosso site!

CLIQUE PARA



Contato para denunciar via e-mail:
Contato@alfabetinho.com.br

3 BÔNUS EXCLUSIVOS

VEJA O QUE VOCÊ VAI GANHAR GRATUITAMENTE

- As avaliações em formato Word
- Gabaritos das Avaliações

- E um super bônus, mais de 80 páginas de recuperações no formato Word



Você irá receber automaticamente os 3 Bônus Exclusivos após 7 dias da confirmação do pagamento!

Clique abaixo

EU QUERO

E garanta já o seu!



LEBRANDO

**ISSO É APENAS UMA
PEQUENA AMOSTRA**

TEMOS UM MATERIAL COMPLETO

**COM MAIS DE 160 AVALIAÇÕES
E MAIS DE 80 RECUPERAÇÕES**

ESPERANDO POR VOCÊ!

Feito para facilitar a vida dos professores

DE ACORDO COM A BNCC 2024



AVALIAÇÕES

PORTUGUÊS 4º ANO

DE ACORDO
COM A BNCC



Escola: _____
 Professor(a): _____ Turma: _____
 Aluno(a): _____ Data: _____

AVALIAÇÃO DE PORTUGUÊS


1) LEIA AS PALAVRAS ABAIXO E MARQUE UM X NA COLUNA ADEQUADA.


PALAVRA	DITONGO	TRITONGO	HIATO
CÉU			
QUAISQUER			
ABRAÇOU			
MIOLO			
GELADEIRA			
PARAGUAI			
GRATUITO			
PIABA			
FOGUEIRA			

2) MARQUE COM X AS PALAVRAS QUE APRESENTAM HIATO:

SAÍDA	PAI	ÁGUA
OURO	SAÚDE	RUÍDO
CANOA	PEIXE	DEIXAR
VIROU	RAINHA	REI
RAIZ	CAIXA	BAÚ

3) ORGANIZE AS SÍLABAS E ESCREVA AS PALAVRAS FORMADAS:


 (DA) (GE) (MA) _____
 (MA) (GE) _____
 (DO) (GE) (LA) _____
 (NA) (TI) (GE) (LA) _____


 (JU) (MOS) (RA) _____
 (CA) (JU) _____
 (JU) (REI) (RA) _____

Escola: _____
 Professor(a): _____ Turma: _____
 Aluno(a): _____ Data: _____

AVALIAÇÃO DE PORTUGUÊS

1) LEIA AS PALAVRAS ABAIXO E MARQUE UM X NA COLUNA ADEQUADA.

PALAVRA	DITONGO	TRITONGO	HIATO
CÉU			
QUAISQUER			
ABRAÇOU			
MIOLO			
GELADEIRA			
PARAGUAI			
GRATUITO			
PIABA			
FOGUEIRA			


Selecionamos apenas algumas folhas, para que você tenha a certeza da qualidade e da riqueza do produto que irá receber.

O material completo contém centenas de atividades.

Está esperando o que para ter o acesso desse maravilhoso material e começar a ter mais tempo na sua vida?



ALFABETINHO - Todos os direitos autorais reservados



AVALIAÇÕES

MATEMÁTICA 4º ANO

DE ACORDO
COM A BNCC



Escola: _____
 Professor(a): _____ Turma: _____
 Aluno(a): _____ Data: _____

AVALIAÇÃO DE MATEMÁTICA

1) UTILIZANDO ALGARISMOS ROMANOS E INDO-ARÁBICO, PREENCHA O QUADRO:

	ROMANO	INDO-ARÁBICO
ANO QUE VOCÊ NASCEU		
SUA IDADE		
ANO ATUAL		
SÉCULO ATUAL		
SÉRIE		
NÚMERO DO SAPATO		
NÚMERO PREFERIDO		
NÚMERO DA SUA CASA		

2) ESCREVA, EM ROMANO, O ANTECESSOR E SUCESSOR:

_____ _____

_____ _____

_____ _____

3) LIGUE, DE FORMA QUE OS NÚMEROS DOS RETÂNGULOS, FORMEM JUNTOS UMA UNIDADE DE MILHAR.

1	624
376	550
450	254
746	999

4) RELACIONE AS COLUNAS.

3.333	TRÊS MIL E TRÊS
3.033	TRÊS MIL TREZENTOS E TRINTA
3.303	TRÊS MIL TREZENTOS E TRINTA E TRÊS
3.330	TRÊS MIL TREZENTOS E TRÊS
3.003	TRÊS MIL E TRINTA E TRÊS

Escola: _____
 Professor(a): _____ Turma: _____
 Aluno(a): _____ Data: _____

AVALIAÇÃO DE MATEMÁTICA

1) UTILIZANDO ALGARISMOS ROMANOS E INDO-ARÁBICO, PREENCHA O QUADRO:

	ROMANO	INDO-ARÁBICO
ANO QUE VOCÊ NASCEU		
SUA IDADE		
ANO ATUAL		
SÉCULO ATUAL		
SÉRIE		
NÚMERO DO SAPATO		
NÚMERO PREFERIDO		
NÚMERO DA SUA CASA		

2) ESCREVA, EM ROMANO, O ANTECESSOR E SUCESSOR:

_____	V	_____
_____	X	_____
_____	XV	_____


Selecionamos apenas algumas folhas, para que você tenha a certeza da qualidade e da riqueza do produto que irá receber.

O material completo contém centenas de atividades.

Está esperando o que para ter o acesso desse maravilhoso material e começar a ter mais tempo na sua vida?



ALFABETINHO - Todos os direitos autorais reservados



AVALIAÇÕES

CIÊNCIAS
4º ANO

DE ACORDO
COM A BNCC



Escola: _____
 Professor(a): _____ Turma: _____
 Aluno(a): _____ Data: _____

AVALIAÇÃO DE CIÊNCIAS

1) LIGUE CORRETAMENTE.

GERALMENTE SÃO DUROS
E TÊM FORMA DEFINIDA.

NÃO TÊM FORMA E
NEM VOLUME CONSTANTE.

TOMAM A FORMA DO RECIPIENTE
E SEU VOLUME É CONSTANTE.

CORPOS LÍQUIDOS

CORPOS SÓLIDOS

CORPOS GASOSOS

2) LEIA AS PALAVRAS E IDENTIFIQUE COM (CS) PARA CORPOS SÓLIDOS, (CL) PARA CORPOS LÍQUIDOS E (CG) CORPOS GASOSOS.

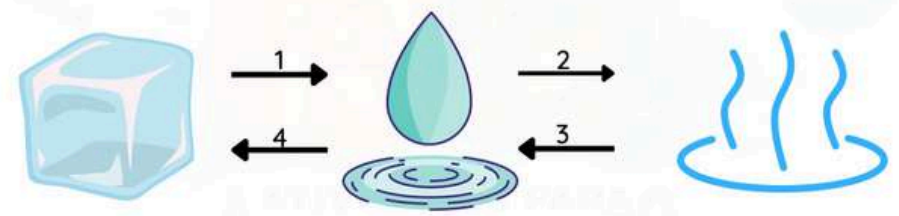
- | | |
|--------------------------------|---------------------------------------|
| <input type="checkbox"/> PORTA | <input type="checkbox"/> FUMAÇA |
| <input type="checkbox"/> ÁGUA | <input type="checkbox"/> SOFÁ |
| <input type="checkbox"/> AR | <input type="checkbox"/> ÓLEO |
| <input type="checkbox"/> MESA | <input type="checkbox"/> ÁRVORE |
| <input type="checkbox"/> SUCO | <input type="checkbox"/> CADEIRA |
| <input type="checkbox"/> SAUNA | <input type="checkbox"/> REFRIGERANTE |



3) LEIA AS AFIRMATIVAS E ASSINALE AS FRASES VERDADEIRAS.

- ALGUMAS RESERVAS DE ÁGUA NA NATUREZA SÃO OCEANOS, MARES, RIOS, LAGOS E GELEIRAS.
- A MAIOR PARTE DA SUPERFÍCIE TERRESTRE É COBERTA POR ÁGUA.
- A ÁGUA PURA TEM CHEIRO, TEM GOSTO E TEM COR.
- EXISTE ÁGUA EM FORMA DE VAPOR, NO SOLO, NO NOSSO CORPO, NO CORPO DOS ANIMAIS E NAS PLANTAS.

4) AS SETAS NA ILUSTRAÇÃO MOSTRAM A TRANSFORMAÇÃO DA ÁGUA DE UM ESTADO PARA OUTRO. ESCREVA O NOME DE CADA TRANSFORMAÇÃO DA ÁGUA.



1 _____
 2 _____
 3 _____
 4 _____

Escola: _____
 Professor(a): _____ Turma: _____
 Aluno(a): _____ Data: _____

AVALIAÇÃO DE CIÊNCIAS

1) LIGUE CORRETAMENTE.

GERALMENTE SÃO DUROS
E TÊM FORMA DEFINIDA.

CORPOS LÍQUIDOS

NÃO TÊM FORMA E
NEM VOLUME CONSTANTE.

CORPOS SÓLIDOS

TOMAM A FORMA DO RECIPIENTE
E SEU VOLUME É CONSTANTE.

CORPOS GASOSOS

2) LEIA AS PALAVRAS E IDENTIFIQUE COM (CS) PARA CORPOS SÓLIDOS, (CL) PARA CORPOS LÍQUIDOS E (CG) CORPOS GASOSOS.

PORTA

FUMAÇA

ÁGUA

SOFÁ

AR

ÓLEO

MESA

ÁRVORE

SUCO

CADEIRA

SAUNA

REFRIGERANTE




Selecionamos apenas algumas folhas, para que você tenha a certeza da qualidade e da riqueza do produto que irá receber.

O material completo contém centenas de atividades.

Está esperando o que para ter o acesso desse maravilhoso material e começar a ter mais tempo na sua vida?



ALFABETINHO - Todos os direitos autorais reservados



AVALIAÇÕES

HISTÓRIA 4º ANO

DE ACORDO
COM A BNCC



Escola: _____
Professor(a): _____ Turma: _____
Aluno(a): _____ Data: _____

AVALIAÇÃO DE HISTÓRIA

1) RELACIONE A SEGUNDA COLUNA COM A PRIMEIRA.

- 1 BARTOLOMEU DIAS
- 2 VASCO DA GAMA
- 3 PEDRO ÁLVARES CABRAL



- EM 1500 CHEGOU AO BRASIL E DEPOIS SEGUIU PARA AS ÍNDIAS.
- EM 1487 CHEGOU AO CABO DAS TORMENTAS.
- EM 1498 FOI O PRIMEIRO A CHEGAR ÀS ÍNDIAS.

2) DOIS PAÍSES FIZERAM GRANDES NAVEGAÇÕES, FINANCIANDO AS VIAGENS PARA GARANTIR A POSSE DAS TERRAS. ESCREVA-OS NOS RETÂNGULOS:

3) RESPONDA:

A) EM QUE DIA, MÊS E ANO FOI ASSINADO O TRATADO DE TORDESILHAS?

B) O QUE ESSE TRATADO DETERMINAVA?

C) COMO FOI FEITA A DIVISÃO?



Escola: _____
 Professor(a): _____ Turma: _____
 Aluno(a): _____ Data: _____

AVALIAÇÃO DE HISTÓRIA

1) RELACIONE A SEGUNDA COLUNA COM A PRIMEIRA.

- 1 BARTOLOMEU DIAS
 2 VASCO DA GAMA
 3 PEDRO ÁLVARES CABRAL



- EM 1500 CHEGOU AO BRASIL E DEPOIS SEGUIU PARA AS ÍNDIAS.
 EM 1487 CHEGOU AO CABO DAS TORMENTAS.
 EM 1498 FOI O PRIMEIRO A CHEGAR ÀS ÍNDIAS.

2) DOIS PAÍSES FIZERAM GRANDES NAVEGAÇÕES, FINANCIANDO AS VIAGENS PARA GARANTIR A POSSE DAS TERRAS. ESCREVA-OS NOS RETÂNGULOS:


Selecionamos apenas algumas folhas, para que você tenha a certeza da qualidade e da riqueza do produto que irá receber.

O material completo contém centenas de atividades.

Está esperando o que para ter o acesso desse maravilhoso material e começar a ter mais tempo na sua vida?



ALFABETINHO - Todos os direitos autorais reservados



AVALIAÇÕES

GEOGRAFIA 4º ANO

DE ACORDO
COM A BNCC



Escola: _____
Professor(a): _____ Turma: _____
Aluno(a): _____ Data: _____

AVALIAÇÃO DE GEOGRAFIA

1) DEFINA:

A) MIGRAÇÃO:

B) EMIGRAÇÃO:

C) IMIGRAÇÃO:

D) MIGRANTES:

2) MARQUE V, PARA VERDADEIRO, E F, PARA FALSO.

() ÉXODO RURAL É A MIGRAÇÃO DO CAMPO PARA A CIDADE.

() QUEM FAZ A CONTAGEM DA POPULAÇÃO SÃO OS VEREADORES.

() PARA FAZER PARTE DA POPULAÇÃO DE UM LUGAR, NÃO É NECESSÁRIO TER NASCIDO NESSE LUGAR.

() UM DOS MOTIVOS QUE LEVAM O HOMEM A MIGRAR É A OCORRÊNCIA DE DESASTRES AMBIENTAIS.

3) LISTE ALGUNS FATORES QUE CONTRIBUEM PARA QUE OCORRA A MIGRAÇÃO.

4) OBSERVE A IMAGEM E RESPONDA:



Escola: _____
Professor(a): _____ Turma: _____
Aluno(a): _____ Data: _____

AVALIAÇÃO DE GEOGRAFIA

1) DEFINA:

A) MIGRAÇÃO:

B) EMIGRAÇÃO:

C) IMIGRAÇÃO:

D) MIGRANTES:

Selecionamos apenas algumas folhas, para que você tenha a certeza da qualidade e da riqueza do produto que irá receber.

O material completo contém centenas de atividades.

Está esperando o que para ter o acesso desse maravilhoso material e começar a ter mais tempo na sua vida?



ALFABETINHO - Todos os direitos autorais reservados



AVALIAÇÕES

ARTE 4º ANO

DE ACORDO
COM A BNCC



Escola: _____
 Professor(a): _____ Turma: _____
 Aluno(a): _____ Data: _____

AVALIAÇÃO DE ARTES

1) LEIA O TEXTO E RESPONDA ÀS PERGUNTAS.

A ARTE NOS FAZ OLHAR O MUNDO



O ARTISTA DEBRET JEAN-BAPTISTE DEBRET FOI UM PINTOR FRANCÊS QUE CHEGOU AO BRASIL, EM 1816, JUNTO COM OUTROS ARTISTAS, TODOS COMPONENTES DA MISSÃO ARTISTICA TRAZIDA POR D. JOÃO VI. ELE PINTOU GRANDES ACONTECIMENTOS DA CORTE E RETRATOS DE PESSOAS DA NOBREZA.

VEJA 3 OBRAS DE DEBRET:



A) OBSERVANDO AS OBRAS, A QUE CONCLUSÃO VOCÊ CHEGA A RESPEITO DAS PINTURAS DE DEBRET?

B) O QUE DEBRET GOSTAVA DE RETRATAR?

C) QUAL A IMPORTÂNCIA DAS OBRAS DE DEBRET?

D) MESMO NÃO SENDO BRASILEIRO, A OPÇÃO DE DEBRET FOI RETRATAR O BRASIL. POR QUE VOCÊ ACHA QUE ELE FEZ ISSO?

Escola: _____
 Professor(a): _____ Turma: _____
 Aluno(a): _____ Data: _____

AVALIAÇÃO DE ARTES

1) LEIA O TEXTO E RESPONDA ÀS PERGUNTAS.

A ARTE NOS FAZ OLHAR O MUNDO



O ARTISTA DEBRET JEAN-BAPTISTE DEBRET FOI UM PINTOR FRANCÊS QUE CHEGOU AO BRASIL, EM 1816, JUNTO COM OUTROS ARTISTAS, TODOS COMPONENTES DA MISSÃO ARTISTICA TRAZIDA POR D. JOÃO VI. ELE PINTOU GRANDES ACONTECIMENTOS DA CORTE E RETRATOS DE PESSOAS DA NOBREZA.

VEJA 3 OBRAS DE DEBRET:



Selecionamos apenas algumas folhas, para que você tenha a certeza da qualidade e da riqueza do produto que irá receber.

O material completo contém centenas de atividades.

Está esperando o que para ter o acesso desse maravilhoso material e começar a ter mais tempo na sua vida?



ALFABETINHO - Todos os direitos autorais reservados



AVALIAÇÕES

ENSINO RELIGIOSO 4º ANO

DE ACORDO
COM A BNCC



Escola: _____
 Professor(a): _____ Turma: _____
 Aluno(a): _____ Data: _____

AVALIAÇÃO DE ENSINO RELIGIOSO

1) ENUMERE OS QUADRINHOS DAS CENAS ABAIXO DE ACORDO COM O QUE SE PEDE.

- (1) COMO VAI?
- (2) PARABÉNS!
- (3) BOA NOITE!
- (4) ATÉ LOGO!



Selecionamos apenas algumas folhas, para que você tenha a certeza da qualidade e da riqueza do produto que irá receber.

O material completo contém centenas de atividades.

Está esperando o que para ter o acesso desse maravilhoso material e começar a ter mais tempo na sua vida?



ALFABETINHO - Todos os direitos autorais reservados

3 BÔNUS EXCLUSIVOS

VEJA O QUE VOCÊ VAI GANHAR GRATUITAMENTE



- As avaliações em formato Word
- Gabaritos das Avaliações

- E um super bônus, mais de 80 páginas de recuperações no formato Word

Você irá receber automaticamente os 3 Bônus Exclusivos após 7 dias da confirmação do pagamento!

Clique abaixo

EU QUERO

E garanta já o seu!





VEJA UM POUQUINHO DO BÔNUS DE 80 PÁGINAS DE RECUPERAÇÕES

Escola: _____
 Professor(a): _____
 Aluno(a): _____
 Termo: _____
 Data: _____

AVALIAÇÃO DE LÍNGUA PORTUGUESA

1) OBSERVE A LISTA DE NOMES A SEGUIR E SEPARA CADA UM DELES DE ACORDO COM A QUANTIDADE DE LETRAS QUE POSSUEM:

	RENATA IAGO MURILO JOÃO GABRIEL	
--	---	---

4 LETRAS JOÃO IAGO	6 LETRAS RENATA MURILO	7 LETRAS GABRIEL
--------------------------	------------------------------	---------------------

2) LEIA O TRECHO A SEGUIR E FAÇA O QUE SE PEDE:

ESSA É A DANÇA DOS BICHOS
 PALMA, PALMA, PÉ, PÉ, PÉ
 ESSA É A DANÇA DOS BICHOS.
 E AÍ? QUE BICHO VOCÊ É?



Escola: _____
 Professor(a): _____
 Aluno(a): _____
 Termo: _____
 Data: _____

AVALIAÇÃO DE LÍNGUA PORTUGUESA

1) CIRCULE A PALAVRA QUE COMEÇA COM V.

2) QUANTAS LETRAS ESSA PALAVRA POSSUI?

3) LEIA A POESIA E RESPONDA AS PERGUNTAS A SEGUIR:

A CASA E SEU DONO

ESSA CASA É DE CACO
 QUEM MORA NELA É O MACACO

ESSA CASA É TÃO BONITA
 QUEM MORA NELA É A CABRITA

ESSA CASA É DE CIMENTO
 QUEM MORA NELA É O JUMENTO

ESSA CASA É DE TELHA
 QUEM MORA NELA É A ABELHA

ESSA CASA É DE LATA
 QUEM MORA NELA É A BARATA

E DESCOBRE DE REPENTE
 QUE NÃO FALEI EM CASA DE GENTE

A) ESCREVA O NOME DOS ANIMAIS CITADOS NO POEMA:
 MACACO, CABRITA, JUMENTO, ABELHA E BARATA

Escola: _____
 Professor(a): _____
 Aluno(a): _____
 Termo: _____
 Data: _____

AVALIAÇÃO DE MATEMÁTICA

1) DESCUBRA QUANTOS BISCOITOS HÁ EM CADA LATA.

	
---	---

2) OBSERVE O DESENHO ABAIXO E FAÇA O QUE SE PEDE:



A) CIRCULE E SEPARA AS BALAS EM GRUPOS DE 10.

B) QUANTAS DEZENAS VOCE CIRCULOU?

C) QUANTAS BALAS SOBRRARAM?

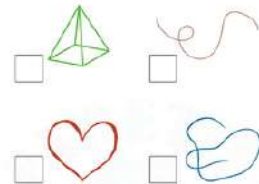
D) QUANTAS DEZENAS E QUANTAS UNIDADES POSSUEM NO QUADRO?

D U


Escola: _____
 Professor(a): _____
 Aluno(a): _____
 Termo: _____
 Data: _____

AVALIAÇÃO DE MATEMÁTICA

3) MARQUE COM UM X AS FIGURAS FORMADAS POR LINHAS ABERTAS:



4) DÊ UM EXEMPLO DE USO PARA CADA INSTRUMENTO ABAIXO:



Escola: _____
 Professor(a): _____
 Aluno(a): _____
 Termo: _____
 Data: _____

AVALIAÇÃO DE CIÊNCIAS

1) OBSERVE AS IMAGENS E MARQUE UM X APENAS NA OPCÃO INCORRETA:



A) OS GATOS SÃO CLASSIFICADOS COMO MAMÍFEROS.

B) OS GATOS E OS SAPOS SÃO CONSIDERADOS ANIMAIS SILVESTRES.

C) OS GATOS SÃO ANIMAIS DOMÉSTICOS E OS SAPOS SÃO ANIMAIS SILVESTRES.

D) OS SAPOS SÃO CONSIDERADOS ANFÍBIOS.

2) É CORRETO DIZER QUE OS RECURSOS ENCONTRADOS NA NATUREZA PODEM ACABAR? SE SIM, EXPLIQUE COMO PODEMOS PRESERVAR ESSES RECURSOS.

3) LIGUE CORRETAMENTE:

OS ANIMAIS MAMÍFEROS... RESPIRAM PELA PELE TEM ESCAMAS MAMAM QUANDO FILHOTÉS

OS RÉPTEIS... RESPIRAM PELA PELE TEM ESCAMAS MAMAM QUANDO FILHOTÉS

4) RESPONDA AS QUESTÕES ABAIXO:

A) DÊ DOIS EXEMPLOS DE MAMÍFEROS.



B) DÊ DOIS EXEMPLOS DE RÉPTEIS.

Escola: _____ Termo: _____
 Professor(a): _____ Data: _____
 Aluno(a): _____

AVALIAÇÃO DE HISTÓRIA

1) PRIMEIRAMENTE, A CORTE PORTUGUESA SE ESTABELECEU EM QUE LUGAR NO BRASIL? QUAIS FORAM AS PRINCIPAIS MUDANÇAS OCORRIDAS DURANTE A SUA PERMANÊNCIA? CITE ALGUMAS DELAS:

2) COM O REGRESSO DA FAMÍLIA REAL A PORTUGAL, QUEM ASSUMIU O COMANDO POLÍTICO DO BRASIL? MARQUE ABAIXO.

D. João VI D. Pedro I

3) RELACIONE AS PALAVRAS E EXPRESSÕES DO QUADRO COM AS QUESTÕES SOBRE A INDEPENDÊNCIA DO BRASIL, ESCRREVENDO-AS NOS LUGARES ADEQUADOS.

NAS MARGENS DO RIO IPIRANGA - 7 DE SETEMBRO DE 1822 INDEPENDÊNCIA OU MORTE! - D. PEDRO I GRITO DA INDEPENDÊNCIA

A) NOME DE QUEM PROCLAMOU A INDEPENDÊNCIA:

B) LOCAL ONDE FOI PROCLAMADA A INDEPENDÊNCIA:

C) A INDEPENDÊNCIA FOI PROCLAMADA NO DIA:

D) A FRASE DECLARADA FOI:

E) ESSE MOMENTO FICOU CONHECIDO COMO:

Escola: _____ Termo: _____
 Professor(a): _____ Data: _____
 Aluno(a): _____

AVALIAÇÃO DE GEOGRAFIA

1) OBSERVE A ROSA DOS VENTOS E PREENCHA OS ESPAÇOS COM O NOME DOS PONTOS COLATERAIS CORRESPONDENTES.



2) OBSERVE A IMAGEM PARA RESPONDER ÀS QUESTÕES.

A) TOMANDO COMO REFERÊNCIA A PRACINHA E SABENDO QUE A IGREJA ESTÁ A LESTE, EM QUE DIREÇÃO SE ENCONTRAM REBECA E CÉSAR?

B) A CASA DE CÉSAR FICA DO LADO OPOSTO À IGREJA. EM QUE DIREÇÃO ELA SE ENCONTRA?

C) EM QUE DIREÇÃO SE ENCONTRA A IGREJA?

D) QUE DIREÇÃO CÉSAR DEVE TOMAR PARA ENCONTRAR SUA AMIGA REBECA?

Escola: _____ Termo: _____
 Professor(a): _____ Data: _____
 Aluno(a): _____

AVALIAÇÃO DE ARTES

1) AO MISTURARMOS DUAS CORES PRIMÁRIAS PARA FORMAR UMA NOVA, A NOVA COR SERÁ CHAMADA DE:

() COR PRIMÁRIA.
 () COR SECUNDÁRIA.
 () COR TERCIÁRIA.

2) ASSINALÉ (P) PARA COR PRIMÁRIA E (S) PARA COR SECUNDÁRIA:



5) LEIA O TEXTO E RESPONDA ÀS PERGUNTAS.

A ARTE NOS FAZ OLHAR O MUNDO

O ARTISTA DEBRET JEAN-BAPTISTE DEBRET FOI UM PINTOR FRANCÊS QUE CHEGOU AO BRASIL EM 1816, JUNTO COM OUTROS ARTISTAS, TODOS COMPONENTES DA MISSÃO ARTÍSTICA TRAZIDA POR D. JOÃO VI. ELE PINTOU GRANDES ACONTECIMENTOS DA CORTE E RETRATOS DE PESSOAS DA NOBREZA.

VEJA 3 OBRAS DE DEBRET:



Escola: _____ Termo: _____
 Professor(a): _____ Data: _____
 Aluno(a): _____

AVALIAÇÃO DE ENSINO RELIGIOSO

1) RELACIONE CADA RELIGIÃO AO SEU LUGAR SAGRADO:

CRISTIANISMO MESQUITA
 ISLAMISMO SINAGOGA
 JUDAÍSMO IGREJA
 INDÍGENA NATUREZA

2) ASSOCIE CORRETAMENTE AS RELIGIÕES ÀS SUAS LIDERANÇAS

(1) IGREJAS EVANGÉLICAS
 (2) ISLAMISMO
 (3) UMBANDA
 (4) CANDOMBLÉ
 (5) IGREJA CATÓLICA
 (6) JUDAÍSMO
 (7) BUDISMO
 (8) RELIGIÕES INDÍGENAS

() PADRE () MÃE DE SANTO
 () PASTOR () YALORIXÁ
 () BABALORIXÁ () IMÃ
 () RABINO () DALAI LAMA
 () PASTORA () FREIRA OU IRMÃ
 () XEIQUE () PAI DE SANTO
 () PAJÉ () PAPA

Escola: _____ Termo: _____
 Professor(a): _____ Data: _____
 Aluno(a): _____

AVALIAÇÃO DE ENSINO RELIGIOSO

1) LEIA E RESPONDA:

OLVINDO À VOZ DE DEUS

DEUS ME FALA EM SEGREDO, É PRECISO ESTAR ATENTO! A VOZ D'ELE É MAIS SUAVE DO QUE UM LEVE PENSAMENTO. DEUS NOS FALA DE VÁRIAS MANEIRAS.

ELE USA OS PROFETAS, A SUA PALAVRA E ATÉ A NATUREZA PARA SE COMUNICAR CONOSCO. POR MEIO DA CRIAÇÃO NÓS FALAMOS COM DEUS.

• COMO PODEMOS MOSTRAR A DEUS QUE ENTENDEMOS O QUE ELE NOS DIZ?

() SENDO CUMPRIDORES DOS NOSSOS DEVERES.
 () OBEDECENDO AOS NOSSOS PAIS.
 () DESTRUINDO AS COISAS DA NATUREZA.
 () SENDO ESTUDIOSOS.
 () AJUDANDO A QUEM PRECISA.



ACREDITE, ISSO FOI APENAS
UMA PEQUENA AMOSTRA
GRÁTIS

ADQUIRA AGORA
O MATERIAL
MAIS COMPLETO
DO BRASIL
E RECEBA

AVALIAÇÕES
DO 4º ANO

De ~~R\$68,00~~ por
até 4x de
R\$9,04
ou 34,00 a vista

- ✔ Parcela em até 4x;
- ✔ Material inédito e inovador
- ✔ AVALIAÇÕES DO 4º ANO
- ✔ MAIS COMPLETO DO BRASIL
- ✔ +3 Bônus Exclusivos
- ✔ Acesso Vitalício
- ✔ Atualizados de acordo com a BNCC 2024

Aperte em "**GARANTIR DESCONTO**"
e aproveite a promoção! [↴](#)

COMPRAR COM DESCONTO

PAGUE ATÉ 4X E TENHA ACESSO VITALÍCIO