

AMOSTRA GRÁTIS

3º ANO - AVALIAÇÕES PRONTAS - BNCC 2024

DO 1º AO 4º BIMESTRE

- **LÍNGUA PORTUGUESA**
- **MATEMÁTICA**
- **CIÊNCIAS**
- **HISTÓRIA**
- **GEOGRAFIA**
- **ARTE**
- **ENSINO RELIGIOSO**



Clique abaixo


EU QUERO



E garanta já o seu!

ATENÇÃO

ESSE MATERIAL É PROTEGIDO COM DIREITOS AUTORAIS DE SEU CRIADOR



Toda e qualquer **divulgação, distribuição, plágio ou venda ilegal**, assim que descoberto(a) via rastreamento digital, o responsável será penalizado previsto no código civil e criminalmente por seu ato criminoso!



Você está visualizando uma **AMOSTRA GRÁTIS** de um dos materiais que pertencem à empresa ALFABETINHO, o nosso material é **vendido somente em SITES oficiais autorizados!**

É válido ressaltar, que **não vendemos os nossos produtos via pix no WhatsApp**, ou seja, pessoas se passando por nós mandando número de pix no seu particular.

Caso isso tenha acontecido com você, **denuncie!** Pois você caiu num golpe e comprou de uma pessoa que está vendendo sem autorização, além de ser **crime compactuar**, você não irá receber as nossas atualizações futuras no seu e-mail.

Os métodos de pagamento devem ser visualizados e feitos somente no nosso site!

CLIQUE PARA



Contato para denunciar via e-mail:
Contato@alfabetinho.com.br

3 BÔNUS EXCLUSIVOS

VEJA O QUE VOCÊ VAI GANHAR GRATUITAMENTE



- As avaliações em formato Word
- Gabaritos das Avaliações

- E um super bônus, mais de 80 páginas de recuperações no formato Word

Você irá receber automaticamente os 3 Bônus Exclusivos após 7 dias da confirmação do pagamento!

Clique abaixo

EU QUERO

E garanta já o seu!



LEBRANDO

**ISSO É APENAS UMA
PEQUENA AMOSTRA**


TEMOS UM MATERIAL COMPLETO

**COM MAIS DE 160 AVALIAÇÕES
E MAIS DE 80 RECUPERAÇÕES**

ESPERANDO POR VOCÊ!

Feito para facilitar a vida dos professores

DE ACORDO COM A BNCC 2024



AVALIAÇÕES

PORTUGUÊS 3º ANO

DE ACORDO
COM A BNCC



Escola: _____
Professor(a): _____ Turma: _____
Aluno(a): _____ Data: _____

AVALIAÇÃO DE PORTUGUÊS

1) OBSERVE ESTES NOMES DE ANIMAIS DO ZOOLOGICO:

AVESTRUZ	JACARÉ	GIRAFÁ
TARTARUGA	HIPOPÓTAMO	CHIMPANZÉ
GUEPARDO	ZEBRA	LEÃO
CISNE	LOBO	ONÇA
TUCANO	RINOCERONTE	URSO
CEGONHA	ELEFANTE	GORILA

• OS FUNCIONÁRIOS DO ZOOLOGICO PRECISAM ORGANIZAR O FICHÁRIO DOS ANIMAIS DE ACORDO COM O NÚMERO DE SÍLABAS DE CADA NOME E VOCÊ VAI AJUDAR!

A) NOMES COM DUAS SÍLABAS (PALAVRAS DISSÍLABAS):

B) NOMES COM TRÊS SÍLABAS (PALAVRAS TRISSÍLABAS):

C) NOMES COM QUATRO SÍLABAS (PALAVRAS POLISSÍLABAS):

2) OBSERVE A PROPAGANDA E RESPONDA:



A) QUAL É O ASSUNTO DA PROPAGANDA?

B) POR QUE O CACHORRO DA PROPAGANDA NÃO É BRINQUEDO?

C) OBSERVANDO O CARTAZ, COMO VOCÊ ACHA QUE ELE ESTÁ SE SENTINDO?

Escola: _____
 Professor(a): _____ Turma: _____
 Aluno(a): _____ Data: _____

AVALIAÇÃO DE PORTUGUÊS

1) OBSERVE ESTES NOMES DE ANIMAIS DO ZOOLOGICO:

AVESTRUZ	JACARÉ	GIRAFÁ
TARTARUGA	HIPOPÓTAMO	CHIMPANZÉ
GUEPARDO	ZEBRA	LEÃO
CISNE	LOBO	ONÇA
TUCANO	RINOCERONTE	URSO
CEGONHA	ELEFANTE	GORILA

• OS FUNCIONÁRIOS DO ZOOLOGICO PRECISAM ORGANIZAR O FICHÁRIO DOS ANIMAIS DE ACORDO COM O NÚMERO DE SÍLABAS DE CADA NOME E VOCÊ VAI AJUDAR!

A) NOMES COM DUAS SÍLABAS (PALAVRAS DISSÍLABAS):

B) NOMES COM TRÊS SÍLABAS (PALAVRAS TRISSÍLABAS):

C) NOMES COM QUATRO SÍLABAS (PALAVRAS POLISSÍLABAS):


Selecionamos apenas algumas folhas, para que você tenha a certeza da qualidade e da riqueza do produto que irá receber.

O material completo contém centenas de atividades.

Está esperando o que para ter o acesso desse maravilhoso material e começar a ter mais tempo na sua vida?



ALFABETINHO - Todos os direitos autorais reservados



AVALIAÇÕES

MATEMÁTICA 3º ANO

DE ACORDO
COM A BNCC



Escola: _____
 Professor(a): _____ Turma: _____
 Aluno(a): _____ Data: _____

AVALIAÇÃO DE MATEMÁTICA

1) EM UM ZOOLOGICO, HÁ PLACAS COM ALGUMAS INFORMAÇÕES DOS ANIMAIS. UMA DAS INFORMAÇÕES É O PESO, QUE ESTÁ ESCRITO POR EXTENSO. USE ALGARISMOS PARA REPRESENTAR O PESO DE CADA ANIMAL.

QUATROCENTOS E VINTE

--	--	--

CENTO E TRINTA

--	--	--

DUZENTOS E OITENTA

--	--	--

NOVECENTOS E DEZ

--	--	--

CENTO E TRINTA E NOVE

--	--	--

TREZENTOS E VINTE E DOIS

--	--	--

QUINHENTOS E VINTE E CINCO

--	--	--



B) QUANTO PESA O ANIMAL MAIS PESADO? E O MAIS LEVE?

2) CARLOS E LUCAS FORAM BRINCAR E VIRAM QUE A CASA DE GUSTAVO TINHA UMA PLACA COM O NÚMERO IDENTIFICANDO-A.



A) ESCREVA, POR EXTENSO, O NÚMERO DA CASA DE GUSTAVO.

B) QUANTOS ALGARISMOS TEM ESSE NÚMERO?

C) EM QUE ORDEM ESTÁ O ALGARISMO 8? E O ALGARISMO 3?

Escola: _____
 Professor(a): _____ Turma: _____
 Aluno(a): _____ Data: _____

AVALIAÇÃO DE MATEMÁTICA

1) EM UM ZOOLOGICO, HÁ PLACAS COM ALGUMAS INFORMAÇÕES DOS ANIMAIS. UMA DAS INFORMAÇÕES É O PESO, QUE ESTÁ ESCRITO POR EXTENSO. USE ALGARISMOS PARA REPRESENTAR O PESO DE CADA ANIMAL.

QUATROCENTOS E VINTE

--	--	--

CENTO E TRINTA

--	--	--

DUZENTOS E OITENTA

--	--	--

NOVECENTOS E DEZ

--	--	--

CENTO E TRINTA E NOVE

--	--	--

TREZENTOS E VINTE E DOIS

--	--	--

QUINHENTOS E VINTE E CINCO

--	--	--




Selecionamos apenas algumas folhas, para que você tenha a certeza da qualidade e da riqueza do produto que irá receber.

O material completo contém centenas de atividades.

Está esperando o que para ter o acesso desse maravilhoso material e começar a ter mais tempo na sua vida?



ALFABETINHO - Todos os direitos autorais reservados



AVALIAÇÕES

CIÊNCIAS
3º ANO

DE ACORDO
COM A BNCC



Escola: _____
 Professor(a): _____ Turma: _____
 Aluno(a): _____ Data: _____

AVALIAÇÃO DE CIÊNCIAS

1) ASSINALE CORRETAMENTE OS ITENS ABAIXO:

A) A NEVE É A ÁGUA NO ESTADO...

GASOSO LIQUÍDO SÓLIDO

B) A ÁGUA NO ESTADO LÍQUIDO É ENCONTRADA...

GASOSA LIQUÍDA SÓLIDA

C) A ÁGUA DOS RIOS ESTÁ NO ESTADO...

GASOSO LIQUÍDO SÓLIDO

D) O VAPOR É A ÁGUA NO ESTADO...

GASOSO LIQUÍDO SÓLIDO

E) A ÁGUA QUE SAI DA TORNEIRA ESTÁ NO ESTADO...

GASOSO LIQUÍDO SÓLIDO

2) LEIA A HISTÓRIA E IDENTIFIQUE, EM CADA PARÁGRAFO, EM QUE ESTADO FÍSICO ENCONTRA-SE A ÁGUA, NUMERANDO CORRETAMENTE.

(1) PAULINHO ESTAVA COM MUITA SEDE, POR ISSO FOI NA GELADEIRA E PEGOU ALGUNS CUBOS DE GELO PARA PÔR NO SUCO.

(2) PAULINHO, PAULINHO! — CHAMOU A MAMÃE. ELE FOI ATENDÊ-LA E, AO VOLTAR, O GELO HAVIA DERRETIDO.

(3) TRISTE COM O QUE ACONTECEU, ELE JOGOU A ÁGUA NO CHÃO DO QUINTAL, E ESTE, POR ESTAR MUITO QUENTE, FEZ A ÁGUA EVAPORAR.

GASOSO LIQUÍDO SÓLIDO

3) RISQUE, EM CADA QUADRO, A PALAVRA QUE TORNA ERRADA AS AFIRMAÇÕES ABAIXO.

A) NAS PARTES LÍQUIDAS DA TERRA ESTÃO:

CACHOEIRAS
 MARES
 CONTINENTES
 LAGOAS

B) A ÁGUA POTÁVEL DEVE SER:

LÍMPIDA
 INCOLOR
 INODORA
 TURVA



Escola: _____
Professor(a): _____ Turma: _____
Aluno(a): _____ Data: _____

AVALIAÇÃO DE CIÊNCIAS

1) ASSINALE CORRETAMENTE OS ITENS ABAIXO:

A) A NEVE É A ÁGUA NO ESTADO...

GASOSO LIQUÍDO SÓLIDO

B) A ÁGUA NO ESTADO LÍQUIDO É ENCONTRADA...

GASOSA LIQUÍDA SÓLIDA

C) A ÁGUA DOS RIOS ESTÁ NO ESTADO...

GASOSO LIQUÍDO SÓLIDO

D) O VAPOR É A ÁGUA NO ESTADO...

GASOSO LIQUÍDO SÓLIDO

E) A ÁGUA QUE SAI DA TORNEIRA ESTÁ NO ESTADO...

GASOSO LIQUÍDO SÓLIDO


Selecionamos apenas algumas folhas, para que você tenha a certeza da qualidade e da riqueza do produto que irá receber.

O material completo contém centenas de atividades.

Está esperando o que para ter o acesso desse maravilhoso material e começar a ter mais tempo na sua vida?



ALFABETINHO - Todos os direitos autorais reservados



AVALIAÇÕES

HISTÓRIA 3º ANO

DE ACORDO
COM A BNCC



Escola: _____
Professor(a): _____ Turma: _____
Aluno(a): _____ Data: _____

AVALIAÇÃO DE HISTÓRIA

1) BASEADO NO QUE ESTUDAMOS, RESPONDA AS PERGUNTAS ABAIXO:

A) O QUE SÃO FONTES HISTÓRICAS?

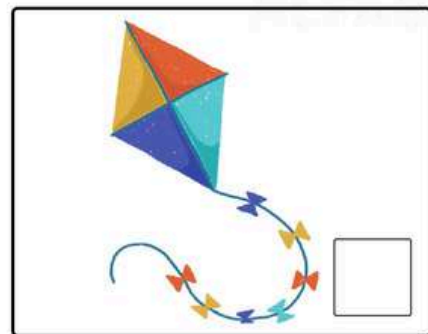
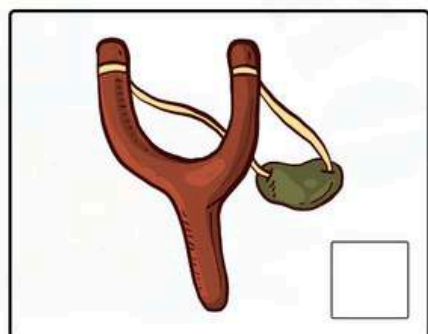

B) O QUE É PRECISO FAZER COM ESSAS FONTES HISTÓRICAS?

C) ONDE SÃO GUARDADAS AS FONTES HISTÓRICAS E QUEM TEM ACESSO À ELAS?

2) DEFINA OS BRINQUEDOS ABAIXO COMO ANTIGOS OU ATUAIS.

1 Brinquedo antigo

2 Brinquedo atual



Escola: _____
 Professor(a): _____ Turma: _____
 Aluno(a): _____ Data: _____

AVALIAÇÃO DE HISTÓRIA

1) BASEADO NO QUE ESTUDAMOS, RESPONDA AS PERGUNTAS ABAIXO:

A) O QUE SÃO FONTES HISTÓRICAS?

B) O QUE É PRECISO FAZER COM ESSAS FONTES HISTÓRICAS?

C) ONDE SÃO GUARDADAS AS FONTES HISTÓRICAS E QUEM TEM ACESSO À ELAS?


Selecionamos apenas algumas folhas, para que você tenha a certeza da qualidade e da riqueza do produto que irá receber.

O material completo contém centenas de atividades.

Está esperando o que para ter o acesso desse maravilhoso material e começar a ter mais tempo na sua vida?



ALFABETINHO - Todos os direitos autorais reservados



AVALIAÇÕES

GEOGRAFIA 3º ANO

DE ACORDO
COM A BNCC



Escola: _____

Professor(a): _____ Turma: _____

Aluno(a): _____ Data: _____

AVALIAÇÃO DE GEOGRAFIA

1) NUMERE OS ACONTECIMENTOS DE ACORDO COM AS ETAPAS QUE A ÁGUA PASSA ATÉ CHEGAR EM NOSSA CASA.

- A ÁGUA VAI PARA TANQUES ONDE É FILTRADA.
- A ÁGUA SAI TRATADA, VAI PARA UM RESERVATÓRIO; EM SEGUIDA, ATRAVÉS DE CANOS, CHEGA À NOSSA CASA.
- EM SEGUIDA, RECEBE CLORO PARA MATAR OS MICRÓBIOS E FLÚOR PARA PROTEGER NOSSOS DENTES.
- COM UMA BOMBA, A ÁGUA É RETIRADA DO RIO.

2) TORNE VERDADEIRAS AS FRASES SOBRE A ÁGUA.

A) A ÁGUA É UM RECURSO ARTIFICIAL.

B) PODEMOS CHAMAR DE POTÁVEL A ÁGUA IMPRÓPRIA PARA BEBER.

C) A ÁGUA OCUPA A MENOR PARTE DO NOSSO PLANETA.

D) SÃO POUCAS AS UTILIDADES DA ÁGUA.

3) LEIA E RESPONDA:

O SOL AQUECE A ÁGUA DOS RIOS, MARES, OCEANOS...
ELA SOBE PARA A ATMOSFERA EM FORMA DE VAPOR
E DESCE EM FORMA DE CHUVA OU NEVE.

A) SOBRE O QUE VOCÊ LEU?

B) QUEM FAZ EVAPORAR A ÁGUA DOS RIOS, MARES, OCEANOS, ETC.?

C) NÓS PODEMOS VER O VAPOR DA ÁGUA?

Escola: _____
 Professor(a): _____ Turma: _____
 Aluno(a): _____ Data: _____

AVALIAÇÃO DE GEOGRAFIA

1) NUMERE OS ACONTECIMENTOS DE ACORDO COM AS ETAPAS QUE A ÁGUA PASSA ATÉ CHEGAR EM NOSSA CASA.

- A ÁGUA VAI PARA TANQUES ONDE É FILTRADA.
- A ÁGUA SAI TRATADA, VAI PARA UM RESERVATÓRIO; EM SEGUIDA, ATRAVÉS DE CANOS, CHEGA À NOSSA CASA.
- EM SEGUIDA, RECEBE CLORO PARA MATAR OS MICRÓBIOS E FLÚOR PARA PROTEGER NOSSOS DENTES.
- COM UMA BOMBA, A ÁGUA É RETIRADA DO RIO.

2) TORNE VERDADEIRAS AS FRASES SOBRE A ÁGUA.

A) A ÁGUA É UM RECURSO ARTIFICIAL.

B) PODEMOS CHAMAR DE POTÁVEL A ÁGUA IMPRÓPRIA PARA BEBER.

Selecionamos apenas algumas folhas, para que você tenha a certeza da qualidade e da riqueza do produto que irá receber.

O material completo contém centenas de atividades.

Está esperando o que para ter o acesso desse maravilhoso material e começar a ter mais tempo na sua vida?



ALFABETINHO - Todos os direitos autorais reservados



AVALIAÇÕES

ARTE 3º ANO

DE ACORDO
COM A BNCC



Escola: _____
Professor(a): _____ Turma: _____
Aluno(a): _____ Data: _____

AVALIAÇÃO DE ARTES

1) OBSERVE A OBRA "BRINQUEDOS E BRINCADEIRAS" DO ARTISTA IVAN CRUZ:



A) QUAL É O NOME DA OBRA?

B) QUAL É O NOME DO ARTISTA QUE A CONFECCIONOU?

C) HÁ QUANTAS CRIANÇAS NA OBRA?

D) FAÇA UMA LISTA DOS ELEMENTOS QUE COMPÕEM ESSA OBRA.


2) AINDA A RESPEITO DA OBRA DE IVAN CRUZ, OBSERVE AS CORES PRIMÁRIAS E RESPONDA.



AMARELO



AZUL



VERMELHO

A) O ARTISTA USA ESSAS CORES NA OBRA?

B) EM QUAIS ELEMENTOS ESSAS CORES ESTÃO PRESENTES?

Escola: _____
 Professor(a): _____ Turma: _____
 Aluno(a): _____ Data: _____

AVALIAÇÃO DE ARTES

1) OBSERVE A OBRA "BRINQUEDOS E BRINCADEIRAS" DO ARTISTA IVAN CRUZ:



A) QUAL É O NOME DA OBRA?

B) QUAL É O NOME DO ARTISTA QUE A CONFECCIONOU?

C) HÁ QUANTAS CRIANÇAS NA OBRA?


Selecionamos apenas algumas folhas, para que você tenha a certeza da qualidade e da riqueza do produto que irá receber.

O material completo contém centenas de atividades.

Está esperando o que para ter o acesso desse maravilhoso material e começar a ter mais tempo na sua vida?



ALFABETINHO - Todos os direitos autorais reservados



AVALIAÇÕES

ENSINO RELIGIOSO 3º ANO

DE ACORDO
COM A BNCC



Escola: _____
 Professor(a): _____ Turma: _____
 Aluno(a): _____ Data: _____

AVALIAÇÃO DE ENSINO RELIGIOSO

1) MARQUE COM UM X OS BALÕES QUE CONTEM AS BOAS OBRAS DO REINO DE DEUS.

RESPEITAR
PAIS E
PROFESSORES

TER PACIÊNCIA

VINGAR AS
OFENSAS

PERDOAR
QUEM ME
OFENDEU

SER AMIGO
DOS MEUS
IRMÃOS

DIZER A
VERDADE

ENGANAR OS
OUTROS

AGRADECER
TUDO QUE
RECEBE

FAZER
FOFOCA

VISITAR OS
DOENTES

LER A BÍBLIA

ORAR POR
TODOS

2) COMPLETE O TEXTO ABAIXO COM AS PALAVRAS QUE ESTÃO NOS CORAÇÕES.



VOCÊ SABIA QUE O NOSSO ROSTO REFLETE O QUE ESTÁ NO

_____ ?

SE EM NÓS HOVER AMOR, BONDADE E ALEGRIA, NOSSO ROSTO

TERÁ UMA EXPRESSÃO CALMA, PACIENTE E _____

MAS, SE EM NOSSO CORAÇÃO HOVER ÓDIO, RAIVA E INVEJA,

NOSSO _____ CERTAMENTE TERÁ UMA

EXPRESSÃO DURA E DESAGRADÁVEL. MAS ÀS VEZES O ROSTO

ENGANA. É IMPORTANTE NÃO JULGAR OS OUTROS APENAS POR

SUA APARÊNCIA. DEVEMOS PROCURAR _____

PESSOAS POR SUAS AÇÕES.

Escola: _____
 Professor(a): _____ Turma: _____
 Aluno(a): _____ Data: _____

AVALIAÇÃO DE ENSINO RELIGIOSO

1) MARQUE COM UM X OS BALÕES QUE CONTEM AS BOAS OBRAS DO REINO DE DEUS.

RESPEITAR
PAIS E
PROFESSORES

TER PACIÊNCIA

VINGAR AS
OFENSAS

PERDOAR
QUEM ME
OFENDEU

SER AMIGO
DOS MEUS
IRMÃOS

DIZER A
VERDADE

ENGANAR OS
OUTROS

AGRADECER
TUDO QUE
RECEBE

FAZER
FOFOCA

VISITAR OS
DOENTES

LER A BÍBLIA

ORAR POR
TODOS

Selecionamos apenas algumas folhas, para que você tenha a certeza da qualidade e da riqueza do produto que irá receber.

O material completo contém centenas de atividades.

Está esperando o que para ter o acesso desse maravilhoso material e começar a ter mais tempo na sua vida?



ALFABETINHO - Todos os direitos autorais reservados

3 BÔNUS EXCLUSIVOS

VEJA O QUE VOCÊ VAI GANHAR GRATUITAMENTE



- As avaliações em formato Word
- Gabaritos das Avaliações

- E um super bônus, mais de 80 páginas de recuperações no formato Word

Você irá receber automaticamente os 3 Bônus Exclusivos após 7 dias da confirmação do pagamento!

Clique abaixo

EU QUERO

E garanta já o seu!





VEJA UM POUQUINHO DO BÔNUS DE 80 PÁGINAS DE RECUPERAÇÕES

Escola: _____ Termo: _____
 Professor(a): _____ Aluno(a): _____ Data: _____

AVALIAÇÃO DE LÍNGUA PORTUGUESA

1) OBSERVE A LISTA DE NOMES A SEGUIR E SEPARA CADA UM DELES DE ACORDO COM A QUANTIDADE DE LETRAS QUE POSSUEM:

	RENATA IAGO MURILO JOÃO GABRIEL	
------------------------------------------------------------------------------------	---------------------------------------------	-------------------------------------------------------------------------------------

4 LETRAS JOÃO IAGO	6 LETRAS RENATA MURILO	7 LETRAS GABRIEL
--------------------------	------------------------------	---------------------

2) LEIA O TRECHO A SEGUIR E FAÇA O QUE SE PEDE:

ESSA É A DANÇA DOS BICHOS
 PALMA, PALMA, PÉ, PÉ, PÉ
 ESSA É A DANÇA DOS BICHOS.
 E AÍ? QUE BICHO VOCÊ É?



3) LEIA A POESIA E RESPONDA AS PERGUNTAS A SEGUIR:

A CASA E SEU DONO

ESSA CASA É DE CACO
 QUEM MORA NELA É O MACACO

ESSA CASA É TÃO BONITA
 QUEM MORA NELA É A CABRITA

ESSA CASA É DE CIMENTO
 QUEM MORA NELA É O JUMENTO

ESSA CASA É DE TELHA
 QUEM MORA NELA É A ABELHA

ESSA CASA É DE LATA
 QUEM MORA NELA É A BARATA

E DESCOBRE DE REPENTE
 QUE NÃO FALEI EM CASA DE GENTE

A) ESCREVA O NOME DOS ANIMAIS CITADOS NO POEMA:
 MACACO, CABRITA, JUMENTO, ABELHA E BARATA

B) QUANTAS LETRAS ESSA PALAVRA POSSUI?

Escola: _____ Termo: _____
 Professor(a): _____ Aluno(a): _____ Data: _____

AVALIAÇÃO DE MATEMÁTICA

1) DESCUBRA QUANTOS BISCOITOS HÁ EM CADA LATA.

	
---------------------------------------------------------------------------------------	---------------------------------------------------------------------------------------

2) OBSERVE O DESENHO ABAIXO E FAÇA O QUE SE PEDE:







A) CIRCULE E SEPARA AS BALAS EM GRUPOS DE 10.

B) QUANTAS DEZENAS VOCE CIRCULOU?



C) QUANTAS BALAS SOBRRARAM?

D) QUANTAS DEZENAS E QUANTAS UNIDADES POSSUEM NO QUADRO?
 D U

3) MARQUE COM UM X AS FIGURAS FORMADAS POR LINHAS ABERTAS:

<input type="checkbox"/>		<input type="checkbox"/>	
<input type="checkbox"/>		<input type="checkbox"/>	

4) DÊ UM EXEMPLO DE USO PARA CADA INSTRUMENTO ABAIXO:

	_____
	_____
	_____

Escola: _____ Termo: _____
 Professor(a): _____ Aluno(a): _____ Data: _____

AVALIAÇÃO DE CIÊNCIAS

1) OBSERVE AS IMAGENS E MARQUE UM X APENAS NA OPCÃO INCORRETA:

	
---------------------------------------------------------------------------------------	---------------------------------------------------------------------------------------

A) OS GATOS SÃO CLASSIFICADOS COMO MAMÍFEROS.

B) OS GATOS E OS SAPOS SÃO CONSIDERADOS ANIMAIS SILVESTRES.

C) OS GATOS SÃO ANIMAIS DOMÉSTICOS E OS SAPOS SÃO ANIMAIS SILVESTRES.

D) OS SAPOS SÃO CONSIDERADOS ANFÍBIOS.

2) É CORRETO DIZER QUE OS RECURSOS ENCONTRADOS NA NATUREZA PODEM ACABAR? SE SIM, EXPLIQUE COMO PODEMOS PRESERVAR ESSES RECURSOS.

3) LIGUE CORRETAMENTE:

OS ANIMAIS MAMÍFEROS... RESPIRAM PELA PELE TEM ESCAMAS MAMAM QUANDO FILHOTÉS

OS RÉPTEIS... RESPIRAM PELA PELE TEM ESCAMAS MAMAM QUANDO FILHOTÉS

4) RESPONDA AS QUESTÕES ABAIXO:

A) DÊ DOIS EXEMPLOS DE MAMÍFEROS.

B) DÊ DOIS EXEMPLOS DE RÉPTEIS.

Escola: _____ Termo: _____
 Professor(a): _____ Data: _____
 Aluno(a): _____

AVALIAÇÃO DE HISTÓRIA

1) PRIMEIRAMENTE, A CORTE PORTUGUESA SE ESTABELEceu EM QUE LUGAR NO BRASIL? QUAIS FORAM AS PRINCIPAIS MUDANÇAS OCORRIDAS DURANTE A SUA PERMANÊNCIA? CITE ALGUMAS DELAS:

2) COM O REGRESSO DA FAMÍLIA REAL A PORTUGAL, QUEM ASSUMIU O COMANDO POLÍTICO DO BRASIL? MARQUE ABAIXO.

D. João VI D. Pedro I

Escola: _____ Termo: _____
 Professor(a): _____ Data: _____
 Aluno(a): _____

3) RELACIONE AS PALAVRAS E EXPRESSÕES DO QUADRO COM AS QUESTÕES SOBRE A INDEPENDÊNCIA DO BRASIL, ESCRREVENDO-AS NOS LUGARES ADEQUADOS.

NAS MARGENS DO RIO IPIRANGA - 7 DE SETEMBRO DE 1822 INDEPENDÊNCIA OU MORTE! - D. PEDRO I GRITO DA INDEPENDÊNCIA

A) NOME DE QUEM PROCLAMOU A INDEPENDÊNCIA:

B) LOCAL ONDE FOI PROCLAMADA A INDEPENDÊNCIA:

C) A INDEPENDÊNCIA FOI PROCLAMADA NO DIA:

D) A FRASE DECLARADA FOI:

E) ESSE MOMENTO FICOU CONHECIDO COMO:

Escola: _____ Termo: _____
 Professor(a): _____ Data: _____
 Aluno(a): _____

AVALIAÇÃO DE GEOGRAFIA

1) OBSERVE A ROSA DOS VENTOS E PREENCHA OS ESPAÇOS COM O NOME DOS PONTOS COLATERAIS CORRESPONDENTES.

2) OBSERVE A IMAGEM PARA RESPONDER ÀS QUESTÕES.

A) TOMANDO COMO REFERÊNCIA A PRACINHA E SABENDO QUE A IGREJA ESTÁ A LESTE, EM QUE DIREÇÃO SE ENCONTRAM REBECA E CÉSAR?

B) A CASA DE CÉSAR FICA DO LADO OPOSTO À IGREJA. EM QUE DIREÇÃO ELA SE ENCONTRA?

C) EM QUE DIREÇÃO SE ENCONTRA A IGREJA?

D) QUE DIREÇÃO CÉSAR DEVE TOMAR PARA ENCONTRAR SUA AMIGA REBECA?

Escola: _____ Termo: _____
 Professor(a): _____ Data: _____
 Aluno(a): _____

AVALIAÇÃO DE ARTES

1) AO MISTURARMOS DUAS CORES PRIMÁRIAS PARA FORMAR UMA NOVA, A NOVA COR SERÁ CHAMADA DE:

() COR PRIMÁRIA
 () COR SECUNDÁRIA
 () COR TERCIÁRIA.

2) ASSINALÉ (P) PARA COR PRIMÁRIA E (S) PARA COR SECUNDÁRIA:

3) LEIA O TEXTO E RESPONDA ÀS PERGUNTAS.

A ARTE NOS FAZ OLHAR O MUNDO

O ARTISTA DEBRET JEAN-BAPTISTE DEBRET FOI UM PINTOR FRANCÊS QUE CHEGOU AO BRASIL EM 1816, JUNTO COM OUTROS ARTISTAS, TODOS COMPONENTES DA MISSÃO ARTÍSTICA TRAZIDA POR D. JOÃO VI. ELE PINTOU GRANDES ACONTECIMENTOS DA CORTE E RETRATOS DE PESSOAS DA NOBREZA.

VEJA 3 OBRAS DE DEBRET:

Escola: _____ Termo: _____
 Professor(a): _____ Data: _____
 Aluno(a): _____

AVALIAÇÃO DE ENSINO RELIGIOSO

1) RELACIONE CADA RELIGIÃO AO SEU LUGAR SAGRADO:

CRISTIANISMO

ISLAMISMO

JUDAÍSMO

INDÍGENA

MESQUITA

SINAGOGA

IGREJA

NATUREZA

Escola: _____ Termo: _____
 Professor(a): _____ Data: _____
 Aluno(a): _____

2) ASSOCIE CORRETAMENTE AS RELIGIÕES ÀS SUAS LIDERANÇAS

(1) IGREJAS EVANGÉLICAS
 (2) ISLAMISMO
 (3) UMBANDA
 (4) CANDOMBLÉ
 (5) IGREJA CATÓLICA
 (6) JUDAÍSMO
 (7) BUDISMO
 (8) RELIGIÕES INDÍGENAS

() PADRE
 () PASTOR
 () BABALORIXÁ
 () RABINO
 () DALAI LAMA
 () PASTORA
 () XEIQUE
 () PAJÉ

() MÃE DE SANTO
 () YALORIXÁ
 () IMÃ
 () FREIRA OU IRMÃ
 () PAI DE SANTO
 () PAPA

Escola: _____ Termo: _____
 Professor(a): _____ Data: _____
 Aluno(a): _____

AVALIAÇÃO DE ENSINO RELIGIOSO

1) LEIA E RESPONDA:

OLVINDO À VOZ DE DEUS

DEUS ME FALA EM SEGREDO, É PRECISO ESTAR ATENTO! A VOZ D'ELE É MAIS SUAVE DO QUE UM LEVE PENSAMENTO. DEUS NOS FALA DE VÁRIAS MANEIRAS.

ELE USA OS PROFETAS, A SUA PALAVRA E ATÉ A NATUREZA PARA SE COMUNICAR CONOSCO. POR MEIO DA CRIAÇÃO NÓS FALAMOS COM DEUS.

• COMO PODEMOS MOSTRAR A DEUS QUE ENTENDEMOS O QUE ELE NOS DIZ?

() SENDO CUMPRIDORES DOS NOSSOS DEVERES.
 () OBEDECENDO AOS NOSSOS PAIS.
 () DESTRUINDO AS COISAS DA NATUREZA.
 () SENDO ESTUDIOSOS.
 () AJUDANDO A QUEM PRECISA.

ACREDITE, ISSO FOI APENAS
UMA PEQUENA AMOSTRA
GRÁTIS

ADQUIRA AGORA
O MATERIAL
MAIS COMPLETO
DO BRASIL
E RECEBA

AVALIAÇÕES
DO 3º ANO

De ~~R\$68,00~~ por
até 4x de
R\$9,04
ou 34,00 a vista

- ✔ Parcela em até 4x;
- ✔ Material inédito e inovador
- ✔ AVALIAÇÕES DO 3º ANO
- ✔ MAIS COMPLETO DO BRASIL
- ✔ +3 Bônus Exclusivos
- ✔ Acesso Vitalício
- ✔ Atualizados de acordo com a BNCC 2024

Aperte em "**GARANTIR DESCONTO**"
e aproveite a promoção! [↴](#)

COMPRAR COM DESCONTO

PAGUE ATÉ 4X E TENHA ACESSO VITALÍCIO