

**AMOSTRA GRÁTIS**

# **2º ANO - AVALIAÇÕES PRONTAS - BNCC 2024**

**DO 1º AO 4º BIMESTRE**

- **LÍNGUA PORTUGUESA**
- **MATEMÁTICA**
- **CIÊNCIAS**
- **HISTÓRIA**
- **GEOGRAFIA**
- **ARTE**
- **ENSINO RELIGIOSO**



**Clique abaixo**


**EU QUERO**



**E garanta já o seu!**

# ATENÇÃO

**ESSE MATERIAL É PROTEGIDO COM DIREITOS AUTORAIS DE SEU CRIADOR**



Toda e qualquer **divulgação, distribuição, plágio ou venda ilegal**, assim que descoberto(a) via rastreamento digital, o responsável será penalizado previsto no código civil e criminalmente por seu ato criminoso!



Você está visualizando uma **AMOSTRA GRÁTIS** de um dos materiais que pertencem à empresa ALFABETINHO, o nosso material é **vendido somente em SITES oficiais autorizados!**

É válido ressaltar, que **não vendemos os nossos produtos via pix no WhatsApp**, ou seja, pessoas se passando por nós mandando número de pix no seu particular.

Caso isso tenha acontecido com você, **denuncie!** Pois você caiu num golpe e comprou de uma pessoa que está vendendo sem autorização, além de ser **crime compactuar**, você não irá receber as nossas atualizações futuras no seu e-mail.

**Os métodos de pagamento devem ser visualizados e feitos somente no nosso site!**

**CLIQUE PARA**



Contato para denunciar via e-mail:  
[Contato@alfabetinho.com.br](mailto:Contato@alfabetinho.com.br)

# 3 BÔNUS EXCLUSIVOS

VEJA O QUE VOCÊ VAI GANHAR GRATUITAMENTE



- As avaliações em formato Word
- Gabaritos das Avaliações

- E um super bônus, mais de 80 páginas de recuperações no formato Word

Você irá receber automaticamente os 3 Bônus Exclusivos após 7 dias da confirmação do pagamento!

Clique abaixo

**EU QUERO**

E garanta já o seu!



**LEBRANDO**

**ISSO É APENAS UMA  
PEQUENA AMOSTRA**


**TEMOS UM MATERIAL COMPLETO**

**COM MAIS DE 160 AVALIAÇÕES  
E MAIS DE 80 RECUPERAÇÕES**

**ESPERANDO POR VOCÊ!**

Feito para facilitar a vida dos professores

**DE ACORDO COM A BNCC 2024**



# AVALIAÇÕES

## PORTUGUÊS 2º ANO

DE ACORDO  
COM A BNCC



Escola: \_\_\_\_\_  
 Professor(a): \_\_\_\_\_ Turma: \_\_\_\_\_  
 Aluno(a): \_\_\_\_\_ Data: \_\_\_\_\_


AVALIAÇÃO DE LÍNGUA PORTUGUESA

1) QUANTAS LETRAS HÁ NO ALFABETO?

20                  18                  26

2) CIRCULE NAS LETRAS DO QUADRO, SOMENTE AS VOGAIS.



3) ESCREVA A QUANTIDADE DE VOGAIS E CONSOANTES QUE HÁ EM CADA PALAVRA.

	Vogais	Consoantes
BONECA	<input type="checkbox"/>	<input type="checkbox"/>
CADEIRA	<input type="checkbox"/>	<input type="checkbox"/>

Vogais

Consoantes

LOBO

ILHA

COLORIDO

PÁSSARO

MAMADEIRA

COPO

MOUSE

4) COMPLETE COM AS LETRAS QUE VEM ANTES E DEPOIS.

Escola: \_\_\_\_\_  
 Professor(a): \_\_\_\_\_ Turma: \_\_\_\_\_  
 Aluno(a): \_\_\_\_\_ Data: \_\_\_\_\_


AVALIAÇÃO DE LÍNGUA PORTUGUESA

1) QUANTAS LETRAS HÁ NO ALFABETO?

20                  18                  26

2) CIRCULE NAS LETRAS DO QUADRO, SOMENTE AS VOGAIS.



3) ESCREVA A QUANTIDADE DE VOGAIS E CONSOANTES QUE HÁ EM CADA PALAVRA.

	Vogais	Consoantes
BONECA	<input type="checkbox"/>	<input type="checkbox"/>
CADEIRA	<input type="checkbox"/>	<input type="checkbox"/>


Selecionamos apenas algumas folhas, para que você tenha a certeza da qualidade e da riqueza do produto que irá receber.

O material completo contém centenas de atividades.

Está esperando o que para ter o acesso desse maravilhoso material e começar a ter mais tempo na sua vida?



ALFABETINHO - Todos os direitos autorais reservados



# AVALIAÇÕES

## MATEMÁTICA 2º ANO

DE ACORDO  
COM A BNCC



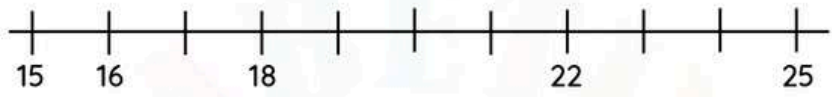


Escola: \_\_\_\_\_  
 Professor(a): \_\_\_\_\_ Turma: \_\_\_\_\_  
 Aluno(a): \_\_\_\_\_ Data: \_\_\_\_\_

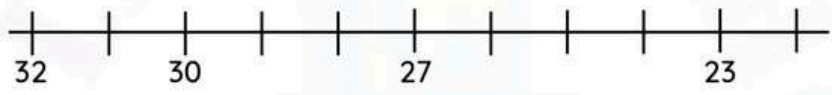
AVALIAÇÃO DE MATEMÁTICA

1) COMPLETE A RETA NUMÉRICA COLOCANDO EM:

• ORDEM CRESCENTE



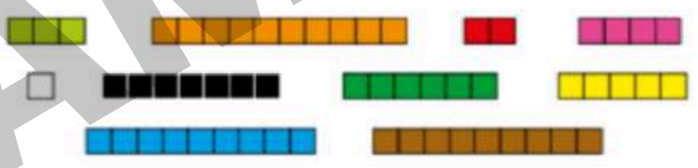
• ORDEM DECRESCENTE



2) ESCREVA OS NUMERAIS DE 4 ATÉ 13 EM ORDEM CRESCENTE:

--	--	--	--	--	--	--	--	--	--

3) COLOQUE AS BARRAS DE CUISENARE NAS ORDENS CRESCENTE E DECRESCENTE, ESCRREVENDO A SEQUÊNCIA DAS CORES.



• CRESCENTE

---



---

• DECRESCENTE

---



---

4) OBSERVE O MODELO E CONTINUE:

A) 63 = 60 + 3      6 DEZENAS E 3 UNIDADES

B) 76 = \_\_\_\_\_

C) 78 = \_\_\_\_\_

D) 92 = \_\_\_\_\_

E) 53 = \_\_\_\_\_

F) 42 = \_\_\_\_\_

G) 60 = \_\_\_\_\_

H) 34 = \_\_\_\_\_

Escola: \_\_\_\_\_  
 Professor(a): \_\_\_\_\_ Turma: \_\_\_\_\_  
 Aluno(a): \_\_\_\_\_ Data: \_\_\_\_\_

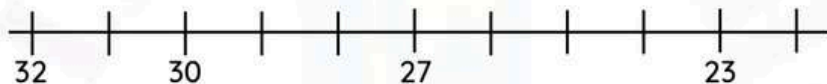
### AVALIAÇÃO DE MATEMÁTICA

1) COMPLETE A RETA NUMÉRICA COLOCANDO EM:

• ORDEM CRESCENTE



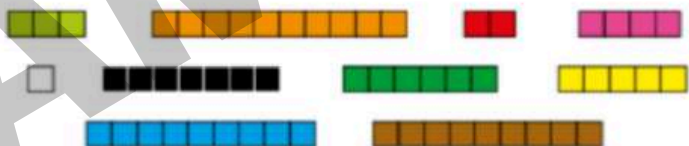
• ORDEM DECRESCENTE



2) ESCREVA OS NUMERAIS DE 4 ATÉ 13 EM ORDEM CRESCENTE:

--	--	--	--	--	--	--	--	--	--

3) COLOQUE AS BARRAS DE CUISENARE NAS ORDENS CRESCENTE E DECRESCENTE, ESCRIVENDO A SEQUÊNCIA DAS CORES.




**Selecionamos apenas algumas folhas, para que você tenha a certeza da qualidade e da riqueza do produto que irá receber.**

**O material completo contém centenas de atividades.**

**Está esperando o que para ter o acesso desse maravilhoso material e começar a ter mais tempo na sua vida?**



**ALFABETINHO - Todos os direitos autorais reservados**



# AVALIAÇÕES

## CIÊNCIAS 2º ANO

DE ACORDO  
COM A BNCC



Escola: \_\_\_\_\_  
 Professor(a): \_\_\_\_\_ Turma: \_\_\_\_\_  
 Aluno(a): \_\_\_\_\_ Data: \_\_\_\_\_

### AVALIAÇÃO DE CIÊNCIAS

1) ASSINALE AS FRASES CORRETAS:

- ( ) A TERRA É UM SATÉLITE.
- ( ) CADA VOLTA QUE A TERRA DÁ EM TORNO DO SOL DURA DOZE MESES.
- ( ) O LADO DA TERRA VIRADO PARA O SOL É NOITE.
- ( ) A TERRA DÁ VOLTAS EM TORNO DO SOL.

2) RESPONDA:

A) QUAL É O NOME DO PLANETA MAIS PERTO DO SOL?

\_\_\_\_\_

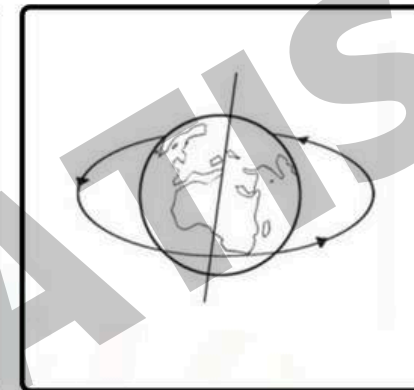
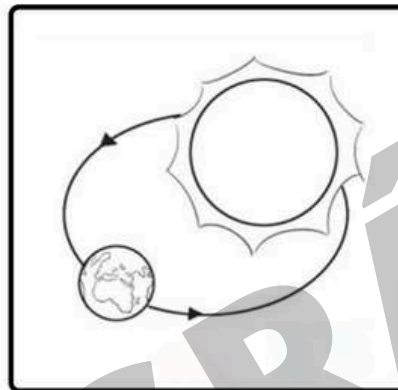
B) QUAL É O NOME DO PLANETA MAIS DISTANTE DO SOL?

\_\_\_\_\_

C) ONDE O SOL NASCE? E ONDE ELE SE PÕE?

\_\_\_\_\_

3) POR MEIO DAS FIGURAS, IDENTIFIQUE OS MOVIMENTOS QUE A TERRA FAZ:



\_\_\_\_\_

\_\_\_\_\_

4) QUANTO TEMPO DURA CADA MOVIMENTO?

A) ROTAÇÃO

\_\_\_\_\_

B) TRANSLAÇÃO:

\_\_\_\_\_

5) QUANTAS E QUAIS SÃO AS ESTAÇÕES DO ANO?

\_\_\_\_\_

\_\_\_\_\_

Escola: \_\_\_\_\_  
 Professor(a): \_\_\_\_\_ Turma: \_\_\_\_\_  
 Aluno(a): \_\_\_\_\_ Data: \_\_\_\_\_

### AVALIAÇÃO DE CIÊNCIAS

1) ASSINALE AS FRASES CORRETAS:

- ( ) A TERRA É UM SATÉLITE.
- ( ) CADA VOLTA QUE A TERRA DÁ EM TORNO DO SOL DURA DOZE MESES.
- ( ) O LADO DA TERRA VIRADO PARA O SOL É NOITE.
- ( ) A TERRA DÁ VOLTAS EM TORNO DO SOL.

2) RESPONDA:

A) QUAL É O NOME DO PLANETA MAIS PERTO DO SOL?

---

B) QUAL É O NOME DO PLANETA MAIS DISTANTE DO SOL?

---

C) ONDE O SOL NASCE? E ONDE ELE SE PÕE?

---


**Selecionamos apenas algumas folhas, para que você tenha a certeza da qualidade e da riqueza do produto que irá receber.**

**O material completo contém centenas de atividades.**

**Está esperando o que para ter o acesso desse maravilhoso material e começar a ter mais tempo na sua vida?**



**ALFABETINHO - Todos os direitos autorais reservados**



# AVALIAÇÕES

## HISTÓRIA 2º ANO

DE ACORDO  
COM A BNCC



Escola: \_\_\_\_\_


Professor(a): \_\_\_\_\_ Turma: \_\_\_\_\_

Aluno(a): \_\_\_\_\_ Data: \_\_\_\_\_

### AVALIAÇÃO DE HISTÓRIA

BAIRRO É UMA COMUNIDADE OU REGIÃO DENTRO DE UMA CIDADE OU MUNICÍPIO, SENDO A UNIDADE MÍNIMA DE URBANIZAÇÃO EXISTENTE NA MAIORIA DAS CIDADES DO MUNDO.

1) OBSERVE AS IMAGENS E RESPONDA:



A) QUAL DAS IMAGENS ACIMA REPRESENTA UM BAIRRO?

---



---

B) CITE O QUE PODEMOS ENCONTRAR EM UM BAIRRO:

---



---



---



---

2) LEIA O TEXTO ABAIXO E RESPONDA:

COMO MELHORAR A RELAÇÃO COM OS VIZINHOS  
FAÇA COMO GOSTARIA QUE FIZESSEM

[..]

FIQUE ATENTO AOS PRÓPRIOS HÁBITOS E TENHA EM MENTE QUE,  
PRÓXIMOS A VOCÊ, PODE HAVER PESSOAS QUE ESTÃO  
TRABALHANDO,

ESTUDANDO, SE RECUPERANDO DE DOENÇAS OU APENAS  
DESEJANDO DESCANSAR.

FAVOREÇA OS ENCONTROS

FAZER AMIZADE COM OS VIZINHOS NOS DÁ A SENSAÇÃO DE  
PERTENCIMENTO A UMA COMUNIDADE, MAS VENCER A TIMIDEZ  
PODE NÃO SER

FÁCIL. UMA BOA ESTRATÉGIA É FREQUENTAR OS MESMOS  
LUGARES QUE ELES.

DÊ AS BOAS VINDAS,

NÃO ESQUEÇA QUE UM DIA VOCÊ FOI O NOVATO E RECEBA OS  
NOVOS  
MORADORES

[...]

SEJA GENTIL E PRONTIFIQUE-SE A AUXILIAR NO  
PROCESSO DE ADAPTAÇÃO A NOVA MORADIA.

A) SOBRE QUAL TIPO DE COMUNIDADE O TEXTO TRATA?

---



---




---

Escola: \_\_\_\_\_  
 Professor(a): \_\_\_\_\_ Turma: \_\_\_\_\_  
 Aluno(a): \_\_\_\_\_ Data: \_\_\_\_\_

### AVALIAÇÃO DE HISTÓRIA

BAIRRO É UMA COMUNIDADE OU REGIÃO DENTRO DE UMA CIDADE OU MUNICÍPIO, SENDO A UNIDADE MÍNIMA DE URBANIZAÇÃO EXISTENTE NA MAIORIA DAS CIDADES DO MUNDO.

1) OBSERVE AS IMAGENS E RESPONDA:



A) QUAL DAS IMAGENS ACIMA REPRESENTA UM BAIRRO?

---



---

B) CITE O QUE PODEMOS ENCONTRAR EM UM BAIRRO:

---



---



---



---

**Selecionamos apenas algumas folhas, para que você tenha a certeza da qualidade e da riqueza do produto que irá receber.**

**O material completo contém centenas de atividades.**

**Está esperando o que para ter o acesso desse maravilhoso material e começar a ter mais tempo na sua vida?**



**ALFABETINHO - Todos os direitos autorais reservados**





# AVALIAÇÕES

## GEOGRAFIA 2º ANO

DE ACORDO  
COM A BNCC



Escola: \_\_\_\_\_  
 Professor(a): \_\_\_\_\_ Turma: \_\_\_\_\_  
 Aluno(a): \_\_\_\_\_ Data: \_\_\_\_\_

AVALIAÇÃO DE GEOGRAFIA

1) OBSERVE A CHARGE E RESPONDA:



A) QUAL TIPO DE MEIO DE COMUNICAÇÃO O MENINO ESTÁ UTILIZANDO?

---



---

B) CITE MAIS DOIS MEIOS DE COMUNICAÇÕES DIFERENTES:

---



---



---

C) NA SUA OPINIÃO, QUAL CRÍTICA A CHARGE ESTÁ FAZENDO?

---



---



---



---

2) LEIA O TEXTO E RESPONDA:

É TODO RUÍDO QUE PODE CAUSAR DANOS À SAÚDE HUMANA OU ANIMAL. EXISTEM DIVERSAS SITUAÇÕES QUE CAUSAM DESCONFORTO ACÚSTICO, COMO UMA PESSOA FALANDO ALTO AO CELULAR E UM INDIVÍDUO OUVINDO MÚSICA SEM FONES. MAS, SE NÃO TIVER POTENCIAL PARA CAUSAR DANO, NÃO É POLUIÇÃO SONORA.

EMBORA NÃO SE ACUMULE NO MEIO AMBIENTE, COMO OUTROS TIPOS DE POLUIÇÃO, ELA É CONSIDERADA UM DOS PRINCIPAIS PROBLEMAS AMBIENTAIS DAS GRANDES CIDADES E UMA QUESTÃO DE SAÚDE PÚBLICA.

UMA PESSOA EXPOSTA A RUÍDOS MUITO ALTOS PODE SOFRER DE INSÔNIA, DEPRESSÃO, PERDA DE MEMÓRIA, GASTRITE, DOENÇAS CARDÍACAS E, CLARO, SURDEZ. POR ISSO, EXISTEM LEIS E NORMAS PARA EVITAR ALTOS NÍVEIS DE RUÍDOS.

A) DÊ EXEMPLOS DE RUÍDOS EXISTENTES NAS CIDADES.

---



---



---



---

Escola: \_\_\_\_\_  
 Professor(a): \_\_\_\_\_ Turma: \_\_\_\_\_  
 Aluno(a): \_\_\_\_\_ Data: \_\_\_\_\_

### AVALIAÇÃO DE GEOGRAFIA

1) OBSERVE A CHARGE E RESPONDA:



A) QUAL TIPO DE MEIO DE COMUNICAÇÃO O MENINO ESTÁ UTILIZANDO?

---



---

B) CITE MAIS DOIS MEIOS DE COMUNICAÇÕES DIFERENTES:

---



---



---

Selecionamos apenas algumas folhas, para que você tenha a certeza da qualidade e da riqueza do produto que irá receber.

O material completo contém centenas de atividades.

Está esperando o que para ter o acesso desse maravilhoso material e começar a ter mais tempo na sua vida?



ALFABETINHO - Todos os direitos autorais reservados



# AVALIAÇÕES

## ARTE 2º ANO

DE ACORDO  
COM A BNCC



Escola: \_\_\_\_\_  
 Professor(a): \_\_\_\_\_ Turma: \_\_\_\_\_  
 Aluno(a): \_\_\_\_\_ Data: \_\_\_\_\_

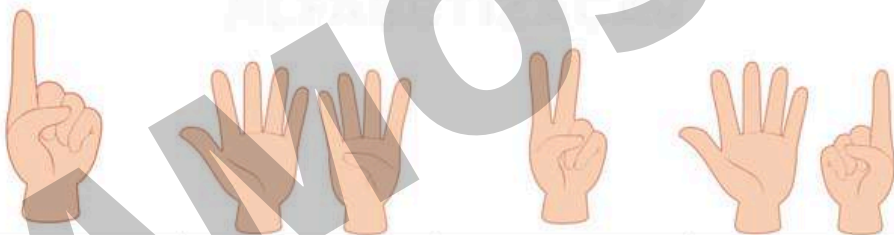
**AVALIAÇÃO DE ARTES**

1) EM 1926, TARSILA INICIA SUA PINTURA "PAU BRASIL", COM CORES ACENTUALMENTE BRASILEIRAS E A EXPÕE EM PARIS, OBTENDO GRANDE SUCESSO. ESCREVA AS LETRAS INICIAIS DE CADA GRAVURA E COLE-AS FORMANDO O NOME DO LUGAR ONDE TARSILA DO AMARAL FEZ A EXPOSIÇÃO DA TELA:



--	--	--	--	--

ESSA EXPOSIÇÃO ACONTECEU EM:



--	--	--	--

2) ESSAS SÃO ALGUMAS DAS OBRAS MAIS FAMOSAS DE TARSILA DO AMARAL. ESCREVA OS NOMES DAS TELAS NOS QUADRINHOS ABAIXO:



A						U
---	--	--	--	--	--	---



O							S
---	--	--	--	--	--	--	---

Escola: \_\_\_\_\_  
 Professor(a): \_\_\_\_\_ Turma: \_\_\_\_\_  
 Aluno(a): \_\_\_\_\_ Data: \_\_\_\_\_

### AVALIAÇÃO DE GEOGRAFIA

1) OBSERVE A CHARGE E RESPONDA:



A) QUAL TIPO DE MEIO DE COMUNICAÇÃO O MENINO ESTÁ UTILIZANDO?

---



---

B) CITE MAIS DOIS MEIOS DE COMUNICAÇÕES DIFERENTES:

---



---



---

Selecionamos apenas algumas folhas, para que você tenha a certeza da qualidade e da riqueza do produto que irá receber.

O material completo contém centenas de atividades.

Está esperando o que para ter o acesso desse maravilhoso material e começar a ter mais tempo na sua vida?



ALFABETINHO - Todos os direitos autorais reservados



# AVALIAÇÕES

## ENSINO RELIGIOSO 2º ANO

DE ACORDO  
COM A BNCC



Escola: \_\_\_\_\_  
 Professor(a): \_\_\_\_\_ Turma: \_\_\_\_\_  
 Aluno(a): \_\_\_\_\_ Data: \_\_\_\_\_

### AVALIAÇÃO DE ENSINO RELIGIOSO

1) ASSINALE AS PALAVRAS QUE SÃO SINAIS DA PRESENÇA DE DEUS:

- ( ) FRATERNIDADE
- ( ) AMOR
- ( ) ALEGRIA
- ( ) GUERRA
- ( ) FÉ
- ( ) DOENÇAS
- ( ) PERDÃO
- ( ) BELEZA
- ( ) NATUREZA
- ( ) BRIGAS
- ( ) HARMONIA
- ( ) FAMÍLIA
- ( ) RANCOR
- ( ) DESOBEDIÊNCIA
- ( ) DOAÇÃO
- ( ) RISADAS
- ( ) TRISTEZA
- ( ) VIOLÊNCIA
- ( ) PAZ
- ( ) SAÚDE



2) FAÇA A LEITURA DO TEXTO E RESPONDA ÀS QUESTÕES.

NO PRINCÍPIO, CRIOU DEUS OS CÉUS E A TERRA.  
 E A TERRA ERA SEM FORMA E VAZIA;  
 E HAVIA TREVAS SOBRE A FACE DO ABISMO;  
 E O ESPÍRITO DE DEUS SE MOVIA  
 SOBRE A FACE DAS ÁGUAS.

A) NO PRINCÍPIO, O QUE DEUS CRIOU?

---

B) COMO ERA A TERRA?

---

C) O QUE HAVIA SOBRE A FACE DO ABISMO?

---

D) ONDE O ESPÍRITO DE DEUS SE MOVIA?

---



Escola: \_\_\_\_\_  
 Professor(a): \_\_\_\_\_ Turma: \_\_\_\_\_  
 Aluno(a): \_\_\_\_\_ Data: \_\_\_\_\_

### AVALIAÇÃO DE ENSINO RELIGIOSO

1) ASSINALE AS PALAVRAS QUE SÃO SINAIS DA PRESENÇA DE DEUS:

- ( ) FRATERNIDADE
- ( ) AMOR
- ( ) ALEGRIA
- ( ) GUERRA
- ( ) FÉ
- ( ) DOENÇAS
- ( ) PERDÃO
- ( ) BELEZA
- ( ) NATUREZA
- ( ) BRIGAS
- ( ) HARMONIA
- ( ) FAMÍLIA
- ( ) RANCOR
- ( ) DESOBEDIÊNCIA
- ( ) DOAÇÃO
- ( ) RISADAS
- ( ) TRISTEZA
- ( ) VIOLÊNCIA
- ( ) PAZ
- ( ) SAÚDE



**Selecionamos apenas algumas folhas, para que você tenha a certeza da qualidade e da riqueza do produto que irá receber.**

**O material completo contém centenas de atividades.**

**Está esperando o que para ter o acesso desse maravilhoso material e começar a ter mais tempo na sua vida?**



**ALFABETINHO - Todos os direitos autorais reservados**

# 3 BÔNUS EXCLUSIVOS

VEJA O QUE VOCÊ VAI GANHAR GRATUITAMENTE



- As avaliações em formato Word
- Gabaritos das Avaliações

- E um super bônus, mais de 80 páginas de recuperações no formato Word

Você irá receber automaticamente os 3 Bônus Exclusivos após 7 dias da confirmação do pagamento!

Clique abaixo

**EU QUERO**

E garanta já o seu!





# VEJA UM POUQUINHO DO BÔNUS DE 80 PÁGINAS DE RECUPERAÇÕES

Escola: \_\_\_\_\_ Termo: \_\_\_\_\_  
 Professor(a): \_\_\_\_\_ Aluno(a): \_\_\_\_\_ Data: \_\_\_\_\_

**AVALIAÇÃO DE LÍNGUA PORTUGUESA**

1) OBSERVE A LISTA DE NOMES A SEGUIR E SEPARA CADA UM DELES DE ACORDO COM A QUANTIDADE DE LETRAS QUE POSSUEM:

	RENATA IAGO MURILO JOÃO GABRIEL	
--	---	---

4 LETRAS JOÃO IAGO	6 LETRAS RENATA MURILO	7 LETRAS GABRIEL
--------------------------	------------------------------	---------------------

2) LEIA O TRECHO A SEGUIR E FAÇA O QUE SE PEDE:

ESSA É A DANÇA DOS BICHOS  
 PALMA, PALMA, PÉ, PÉ, PÉ  
 ESSA É A DANÇA DOS BICHOS.  
 E AÍ? QUE BICHO VOCÊ É?



3) LEIA A POESIA E RESPONDA AS PERGUNTAS A SEGUIR:

**A CASA E SEU DONO**

ESSA CASA É DE CACO  
 QUEM MORA NELA É O MACACO

ESSA CASA É TÃO BONITA  
 QUEM MORA NELA É A CABRITA

ESSA CASA É DE CIMENTO  
 QUEM MORA NELA É O JUMENTO

ESSA CASA É DE TELHA  
 QUEM MORA NELA É A ABELHA

ESSA CASA É DE LATA  
 QUEM MORA NELA É A BARATA

E DESCOBRE DE REPENTE  
 QUE NÃO FALEI EM CASA DE GENTE

A) ESCREVA O NOME DOS ANIMAIS CITADOS NO POEMA:  
 MACACO, CABRITA, JUMENTO, ABELHA E BARATA

B) QUANTAS LETRAS ESSA PALAVRA POSSUI?

Escola: \_\_\_\_\_ Termo: \_\_\_\_\_  
 Professor(a): \_\_\_\_\_ Aluno(a): \_\_\_\_\_ Data: \_\_\_\_\_

**AVALIAÇÃO DE MATEMÁTICA**

1) DESCUBRA QUANTOS BISCOITOS HÁ EM CADA LATA.




	
---	---

2) OBSERVE O DESENHO ABAIXO E FAÇA O QUE SE PEDE:






A) CIRCULE E SEPARA AS BALAS EM GRUPOS DE 10.  
 B) QUANTAS DEZENAS VOCE CIRCULOU?   
 C) QUANTAS BALAS SOBRRARAM?   
 D) QUANTAS DEZENAS E QUANTAS UNIDADES POSSUEM NO QUADRO?  
 D U

3) MARQUE COM UM X AS FIGURAS FORMADAS POR LINHAS ABERTAS:

<input type="checkbox"/>		<input type="checkbox"/>	
<input type="checkbox"/>		<input type="checkbox"/>	

4) DÊ UM EXEMPLO DE USO PARA CADA INSTRUMENTO ABAIXO:

	_____
	_____
	_____

Escola: \_\_\_\_\_ Termo: \_\_\_\_\_  
 Professor(a): \_\_\_\_\_ Aluno(a): \_\_\_\_\_ Data: \_\_\_\_\_

**AVALIAÇÃO DE CIÊNCIAS**

1) OBSERVE AS IMAGENS E MARQUE UM X APENAS NA OPCÃO INCORRETA:

	
---	---

A) OS GATOS SÃO CLASSIFICADOS COMO MAMÍFEROS.  
 B) OS GATOS E OS SAPOS SÃO CONSIDERADOS ANIMAIS SILVESTRES.  
 C) OS GATOS SÃO ANIMAIS DOMÉSTICOS E OS SAPOS SÃO ANIMAIS SILVESTRES.  
 D) OS SAPOS SÃO CONSIDERADOS ANFÍBIOS.

2) É CORRETO DIZER QUE OS RECURSOS ENCONTRADOS NA NATUREZA PODEM ACABAR? SE SIM, EXPLIQUE COMO PODEMOS PRESERVAR ESSES RECURSOS.

\_\_\_\_\_

\_\_\_\_\_

\_\_\_\_\_

3) LIGUE CORRETAMENTE:

OS ANIMAIS MAMÍFEROS...  RESPIRAM PELA PELE  TEM ESCAMAS  MAMAM QUANDO FILHOTÉS

OS RÉPTEIS...  RESPIRAM PELA PELE  TEM ESCAMAS  MAMAM QUANDO FILHOTÉS

4) RESPONDA AS QUESTÕES ABAIXO:

A) DÊ DOIS EXEMPLOS DE MAMÍFEROS.



B) DÊ DOIS EXEMPLOS DE RÉPTEIS.

Escola: \_\_\_\_\_ Termo: \_\_\_\_\_  
 Professor(a): \_\_\_\_\_ Data: \_\_\_\_\_  
 Aluno(a): \_\_\_\_\_

**AVALIAÇÃO DE HISTÓRIA**

1) PRIMEIRAMENTE, A CORTE PORTUGUESA SE ESTABELECEU EM QUE LUGAR NO BRASIL? QUAIS FORAM AS PRINCIPAIS MUDANÇAS OCORRIDAS DURANTE A SUA PERMANÊNCIA? CITE ALGUMAS DELAS:

2) COM O REGRESSO DA FAMÍLIA REAL A PORTUGAL, QUEM ASSUMIU O COMANDO POLÍTICO DO BRASIL? MARQUE ABAIXO.

D. João VI      D. Pedro I

3) RELACIONE AS PALAVRAS E EXPRESSÕES DO QUADRO COM AS QUESTÕES SOBRE A INDEPENDÊNCIA DO BRASIL, ESCRREVENDO-AS NOS LUGARES ADEQUADOS.

NAS MARGENS DO RIO IPIRANGA - 7 DE SETEMBRO DE 1822 INDEPENDÊNCIA OU MORTE! - D. PEDRO I GRITO DA INDEPENDÊNCIA

A) NOME DE QUEM PROCLAMOU A INDEPENDÊNCIA:

B) LOCAL ONDE FOI PROCLAMADA A INDEPENDÊNCIA:

C) A INDEPENDÊNCIA FOI PROCLAMADA NO DIA:

D) A FRASE DECLARADA FOI:

E) ESSE MOMENTO FICOU CONHECIDO COMO:

Escola: \_\_\_\_\_ Termo: \_\_\_\_\_  
 Professor(a): \_\_\_\_\_ Data: \_\_\_\_\_  
 Aluno(a): \_\_\_\_\_

**AVALIAÇÃO DE GEOGRAFIA**

1) OBSERVE A ROSA DOS VENTOS E PREENCHA OS ESPAÇOS COM O NOME DOS PONTOS COLATERAIS CORRESPONDENTES.



2) OBSERVE A IMAGEM PARA RESPONDER ÀS QUESTÕES.

A) TOMANDO COMO REFERÊNCIA A PRACINHA E SABENDO QUE A IGREJA ESTÁ A LESTE, EM QUE DIREÇÃO SE ENCONTRAM REBECA E CÉSAR?

B) A CASA DE CÉSAR FICA DO LADO OPOSTO À IGREJA. EM QUE DIREÇÃO ELA SE ENCONTRA?

C) EM QUE DIREÇÃO SE ENCONTRA A IGREJA?

D) QUE DIREÇÃO CÉSAR DEVE TOMAR PARA ENCONTRAR SUA AMIGA REBECA?

Escola: \_\_\_\_\_ Termo: \_\_\_\_\_  
 Professor(a): \_\_\_\_\_ Data: \_\_\_\_\_  
 Aluno(a): \_\_\_\_\_

**AVALIAÇÃO DE ARTES**

1) AO MISTURARMOS DUAS CORES PRIMÁRIAS PARA FORMAR UMA NOVA, A NOVA COR SERÁ CHAMADA DE:

( ) COR PRIMÁRIA.  
 ( ) COR SECUNDÁRIA.  
 ( ) COR TERCIÁRIA.

2) ASSINALÉ (P) PARA COR PRIMÁRIA E (S) PARA COR SECUNDÁRIA:



5) LEIA O TEXTO E RESPONDA ÀS PERGUNTAS.

A ARTE NOS FAZ OLHAR O MUNDO

O ARTISTA DEBRET JEAN-BAPTISTE DEBRET FOI UM PINTOR FRANCÊS QUE CHEGOU AO BRASIL EM 1816, JUNTO COM OUTROS ARTISTAS, TODOS COMPONENTES DA MISSÃO ARTÍSTICA TRAZIDA POR D. JOÃO VI. ELE PINTOU GRANDES ACONTECIMENTOS DA CORTE E RETRATOS DE PESSOAS DA NOBREZA.

VEJA 3 OBRAS DE DEBRET:



Escola: \_\_\_\_\_ Termo: \_\_\_\_\_  
 Professor(a): \_\_\_\_\_ Data: \_\_\_\_\_  
 Aluno(a): \_\_\_\_\_

**AVALIAÇÃO DE ENSINO RELIGIOSO**

1) RELACIONE CADA RELIGIÃO AO SEU LUGAR SAGRADO:

CRISTIANISMO      MESQUITA  
 ISLAMISMO          SINAGOGA  
 JUDAÍSMO            IGREJA  
 INDÍGENA            NATUREZA

2) ASSOCIE CORRETAMENTE AS RELIGIÕES ÀS SUAS LIDERANÇAS

(1) IGREJAS EVANGÉLICAS  
 (2) ISLAMISMO  
 (3) UMBANDA  
 (4) CANDOMBLÉ  
 (5) IGREJA CATÓLICA  
 (6) JUDAÍSMO  
 (7) BUDISMO  
 (8) RELIGIÕES INDÍGENAS

( ) PADRE      ( ) MÃE DE SANTO  
 ( ) PASTOR      ( ) YALORIXÁ  
 ( ) BABALORIXÁ      ( ) IMÃ  
 ( ) RABINO      ( ) DALAI LAMA  
 ( ) PASTORA      ( ) FREIRA OU IRMÃ  
 ( ) XEIQUE      ( ) PAI DE SANTO  
 ( ) PAJÉ      ( ) PAPA

Escola: \_\_\_\_\_ Termo: \_\_\_\_\_  
 Professor(a): \_\_\_\_\_ Data: \_\_\_\_\_  
 Aluno(a): \_\_\_\_\_

**AVALIAÇÃO DE ENSINO RELIGIOSO**

1) LEIA E RESPONDA:

OLVINDO À VOZ DE DEUS

DEUS ME FALA EM SEGREDO, É PRECISO ESTAR ATENTO! A VOZ D'ELE É MAIS SUAVE DO QUE UM LEVE PENSAMENTO. DEUS NOS FALA DE VÁRIAS MANEIRAS.

ELE USA OS PROFETAS, A SUA PALAVRA E ATÉ A NATUREZA PARA SE COMUNICAR CONOSCO. POR MEIO DA CRIAÇÃO NÓS FALAMOS COM DEUS.

• COMO PODEMOS MOSTRAR A DEUS QUE ENTENDEMOS O QUE ELE NOS DIZ?

( ) SENDO CUMPRIDORES DOS NOSSOS DEVERES.  
 ( ) OBEDECENDO AOS NOSSOS PAIS.  
 ( ) DESTRUINDO AS COISAS DA NATUREZA.  
 ( ) SENDO ESTUDIOSOS.  
 ( ) AJUDANDO A QUEM PRECISA.



ACREDITE, ISSO FOI APENAS  
UMA PEQUENA AMOSTRA  
GRÁTIS

ADQUIRA AGORA  
O MATERIAL  
MAIS COMPLETO  
DO BRASIL  
E RECEBA

AVALIAÇÕES  
DO 2º ANO

De ~~R\$68,00~~ por  
até 4x de  
**R\$9,04**  
ou 34,00 a vista

- ✔ Parcela em até 4x;
- ✔ Material inédito e inovador
- ✔ AVALIAÇÕES DO 2º ANO
- ✔ MAIS COMPLETO DO BRASIL
- ✔ +3 Bônus Exclusivos
- ✔ Acesso Vitalício
- ✔ Atualizados de acordo com a BNCC 2024

Aperte em "**GARANTIR DESCONTO**"  
e aproveite a promoção! [↴](#)

COMPRAR COM DESCONTO

PAGUE ATÉ 4X E TENHA ACESSO VITALÍCIO